

نام و نام خانوادگی:

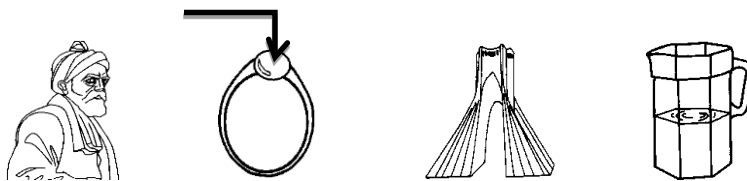
به نام خدا

تاریخ:

موضوع: علوم (هدف آزمون سنگ ها و خاک و موارد استفاده از آن بخش هفتم و نهم)

پایه: اول

کدام یک از وسایل زیر از سنگ درست شده است؟ رنگ کن.




کدام یک از افراد زیر روی سنگ ها کار می کنند؟ علامت بزن.




مراحل تغییر و استفاده از سنگ را در شکل های زیر به ترتیب شماره گذاری کن.



کدامیک از این جانوران در خاک زندگی می کنند؟ رنگ کن.




برای ساختن کدام یک از وسایل زیر از خاک استفاده شده است؟ گردی زیر آن را رنگ کن.



کدام یک از افراد زیر برای کار به خاک احتیاج دارند؟



وجود کدام یک از موجودات زیر به خاک وابسته است؟ دورشان خط بکش.



آب در کدام یک از خاک های زیر سریع تر نفوذ می کند؟



خاک باغچه



خاک ماسه



خاک رس

سنجه ها

ردیف	انتظارات آموزشی	یادگیری کامل	یادگیری قابل قبول	نیاز به آموزش مجدد
۱	خاک را به عنوان محل زندگی بعضی از موجودات می شناسد؟			
۲	تعدادی وسیله که از خاک درست شده را نام می برد؟			
۳	موارد استفاده از خاک را می شناسد؟			
۴	ارتباط خاک با شغل های داده شده را می داند؟			
5	وسایل ساخته شده از سنگ را می شناسد؟			
6	انواع سنگ بر حسب شکل ظاهری آن ها را می شناسد؟			
7	موارد استفاده از سنگ را می شناسد؟			
8	مراحل تغییر جهت استفاده از سنگ را می شناسد؟			

باز خورد توصیفی معلم:

خودسنجی



من از انجام این آزمون راضی بودم؟

تاریخ:

به نام خدا

نام و نام خانوادگی: