

نام و نام خانوادگی:

به نام خدا

تاریخ:

موضوع: آزمون علوم (هدف آزمون قسمت های مختلف گیاهان فواید و رشد گیاهان بخش پنجم)  
پایه: اول


دور گیاهان خط بکش.





تصویر هر کدام از گیاهان زیر را کامل کن.



کدام یک ریشه ی خوراکی است؟ رنگ کن.




دانه های کدام یک خوراکی است؟




کدام قسمت گیاه به میوه تبدیل می شود؟ بکش.

دانه درون کدام یک از قسمت های زیر است؟



هر کدام از مواد زیر از کدام گیاه به دست آمده؟ وصل کن.



سنگه ها

نیاز به آموزش مجدد	یادگیری قابل قبول	یادگیری کامل	انتظارات آموزشی	ردیف
			گیاهان را می شناسد؟	۱
			انواع ریشه ها برحسب خوراکی و غیر خوراکی بودن آن ها می شناسد؟	۲
			موارد استفاده از گیاهان را می شناسد؟	۳
			غذاهایی که از گیاهان به دست می آید را می شناسد؟	۴
			قسمت های مختلف گیاهان را می شناسد؟	۵
			مراحل رشد گیاهان را می شناسد؟	۶

باز خورد توصیفی معلم:

خودسنجی



من از انجام این آزمون راضی بودم.