

پایه ی اول

به نام خدای خوب




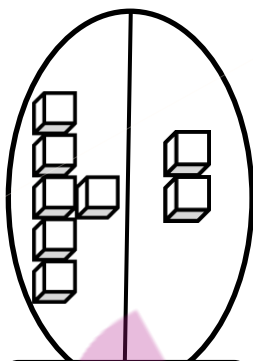
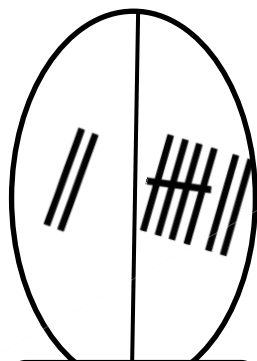


تکلیف
ریاضی
تم ۱۳

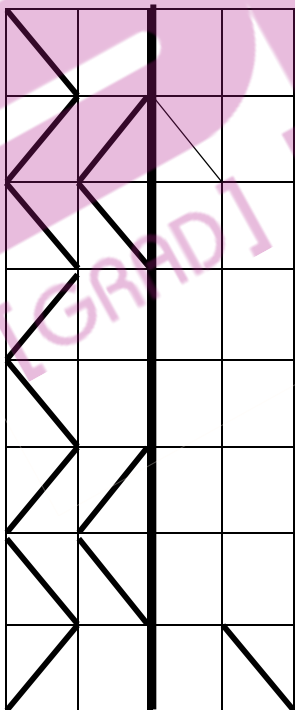
نام زیبای من:

تاریخ:

۱- برای شکل های زیر جمع بنویس.




۲- ابتدا مربع شگفت انگیز را کامل کن و سپس درجدول سمت چپ خانه ها را طوری کامل کن که دو نیمه مثل هم باشند.



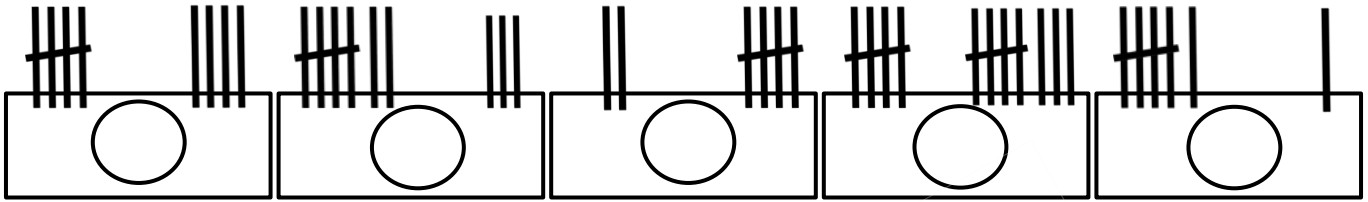
۸	۷	۴	۵		۲	۳	۶	۱
۶		۱	۳	۷	۴	۸		۹
۳	۵		۸	۱	۶		۴	۲
۹	۶	۷	۴	۲	۵	۱	۸	۳
	۳	۵		۸		۴	۲	
۲	۴	۸	۷	۳	۱	۵	۹	۶
۴	۹		۱	۵	۳		۷	۸
۵		۳	۹	۶	۷	۲		۴
۷	۱	۶	۲		۸	۹	۳	۵



۳- دور عددهای بیشتر از ۶ خط بکش.



۴- برای چوب خط ها عدد بنویس و بین دو عدد علامت کمتری یا بیشتری (<) بگذار.



۵- بین اعداد به طور مناسب علامت کمتری یا بیشتری (>) قرار بده.

۱ ○ ۴ ۲ ○ ۵ ۸ ○ ۱ ۴ ○ ۳ ۶ ○ ۳

۶- حاصل جمع های زیر را با کمک رنگ کردن چینه ها به دست آورید. (عدد اول، رنگ آبی - عدد دوم قرمز)



$$۵ + ۳ = \bigcirc$$



$$۲ + ۵ = \bigcirc$$



$$۴ + ۴ = \bigcirc$$




$$۶ + ۳ = \bigcirc$$

۷- از ۰ تا ۹ به ترتیب بنویس.



۸- الگوهای زیر را ادامه بده.



بازخورد آموزگار



خود سنجی

