

نام زیبای من:

تاریخ:


۱- برای شکل های زیر جمع بنویس.

--	--	--	--	--	--	--	--	--	--	--	--

$1 + 2 + 5 = \text{---}$			
--------------------------	--	--	--

۲- ابتدا مربع شگفت انگیز را کامل کن و سپس درجدول سمت چپ خانه ها را طوری رنگ کن که دو نیمه مثل هم باشند.

	۳	۹	۴		۸	۲	۵	
۷	۱	۸		۲		۶	۴	۹
۴	۲		۹	۷	۶		۸	۳
۲		۷	۸	۵	۹	۳		۶
	۶	۳	۲		۱	۵	۷	
۵		۱	۶	۳	۷	۹		۴
۱	۵		۷	۸	۳		۹	۲
۸	۹	۴		۶		۷	۳	۱
	۷	۲	۱		۴	۸	۶	



۳- عددهای کمتر از ۴ را رنگ بزن.

۴- مانند نمونه تفریق های زیر را روی شکل نشان بده و جواب آن را بنویس.

$$6 - 2 = \text{----}$$



$$9 - 3 = \text{----}$$



$$8 - 4 = \text{----}$$



$$7 - 5 = \text{----}$$



۵- الگوهای زیر را ادامه بده.





۶- مانند نمونه برای تفریق های زیر شکل بکش و باقی مانده را به دست بیاور.

$$5 - 3 = \bigcirc$$

$$4 - 4 = \bigcirc$$

$$6 - 3 = \bigcirc$$

$$9 - 5 = \bigcirc$$



۷- جمع های مربوط به هر عدد را بنویس.

○	۷

۶	

بازخورد آموزگار



خود سنجی

