

پایه ی اول

به نام خدای خوب





تکلیف
ریاضی

تم ۱۶

نام زیبای من:

تاریخ:


۱- با توجه به عدد داخل جدول چوب خط ها را کامل کن.

			
ده تایی یکی	ده تایی یکی	ده تایی یکی	ده تایی یکی
1 4	1 9	1 5	1 7

۲- جواب جمع و تفریق های زیر را بنویس.

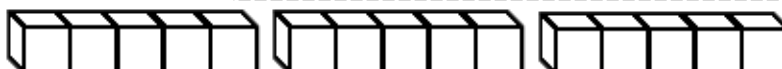
$6 + 1 =$	$8 + 2 =$	$2 + 7 =$	$8 - 2 =$	$5 - 4 =$	$8 - 3 =$
$5 + 5 =$	$3 + 5 =$	$4 + 6 =$	$4 - 4 =$	$5 - 1 =$	$5 - 0 =$
$3 + 3 =$	$4 + 4 =$	$2 + 2 =$	$2 - 1 =$	$7 - 6 =$	$9 - 6 =$
$1 + 7 =$	$4 + 3 =$	$4 + 2 =$	$9 - 5 =$	$10 - 6 =$	$4 - 0 =$
$6 + 0 =$	$9 + 1 =$	$6 + 2 =$	$6 - 3 =$	$6 - 4 =$	$9 - 1 =$

۳- اعداد ۹ تا ۲۰ را به ترتیب بنویس.



۴- جمع های زیر را روی شکل نشان بده. (از ۲ رنگ استفاده کن.)

$9 + 6 = \text{----}$




$8 + 5 = \text{----}$



۵- عدد های زیر را با چوب خط نشان بده.

۱۵	۱۶	۱۲	۱۹	۱۸	۱۳

۶- عددهای روی ساعت را بنویس.



۷- مانند نمونه حاصل جمع های زیر را با کمک ۲ رنگ چوب خط به دست بیاور. سپس آن را در جدول بگذار.

$۸ + ۶ = \text{---}$		<table border="1"> <tr> <td style="text-align: center;">ده تایی</td> <td style="text-align: center;">یکی</td> </tr> <tr> <td style="text-align: center;">۱</td> <td style="text-align: center;">۴</td> </tr> </table>	ده تایی	یکی	۱	۴	$\text{---} ۱۴$
ده تایی	یکی						
۱	۴						
$۹ + ۷ = \text{---}$		<table border="1"> <tr> <td style="text-align: center;">ده تایی</td> <td style="text-align: center;">یکی</td> </tr> <tr> <td style="text-align: center;"> </td> <td style="text-align: center;"> </td> </tr> </table>	ده تایی	یکی			---
ده تایی	یکی						
$۷ + ۵ = \text{---}$		<table border="1"> <tr> <td style="text-align: center;">ده تایی</td> <td style="text-align: center;">یکی</td> </tr> <tr> <td style="text-align: center;"> </td> <td style="text-align: center;"> </td> </tr> </table>	ده تایی	یکی			---
ده تایی	یکی						
$۸ + ۸ = \text{---}$		<table border="1"> <tr> <td style="text-align: center;">ده تایی</td> <td style="text-align: center;">یکی</td> </tr> <tr> <td style="text-align: center;"> </td> <td style="text-align: center;"> </td> </tr> </table>	ده تایی	یکی			---
ده تایی	یکی						