

پایه ی اول

به نام خدای خوب

تکلیف
ریاضی

تم ۱۷

نام زیبای من:

تاریخ:

۱- ابتدا با چوب خط حاصل جمع هر شکل را پیدا کن. سپس جمع مربوط به آن را بنویس.


----- + ----- + ----- = -----		----- + ----- = -----
----- + ----- + ----- = -----		
----- + ----- + ----- + ----- = -----		

	----- + ----- = -----

۲- جمع و تفریق های زیر را روی محور نشان بده، سپس جواب آن ها را بنویس.

	$9 + 7 = \text{-----}$
	$3 + 7 + 5 = \text{-----}$
	$10 - 7 = \text{-----}$
	$9 - 3 = \text{-----}$

۳- حاصل جمع های زیر را با چوب خط حساب کن و بعد علامت کمتری و بیشتری یا مساوی بگذار.

$$۲ + ۱ + ۴ =$$



$$۱ + ۳ + ۳ =$$

$$۴ + ۲ + ۲ =$$

$$۳ + ۳ + ۲ =$$


$$۰ + ۲ + ۳ =$$

$$۲ + ۰ + ۱ =$$

$$۳ + ۶ + ۱ =$$


$$۲ + ۳ + ۵ =$$

۴- جمله ها را با نوشتن عدد مناسب کامل کن.



بلندی درخت بین تا است.


بلندی گل بین تا است.

بلندی هویج بین تا است.

۵- به نشانه های نقطه دار کلمات زیر دقت کن و برای هر کدام یک جمع بنویس.

گنجشک

نشستند



گنجشک

نشستند