

پایه ی اول

به نام خدای خوب

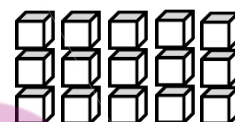
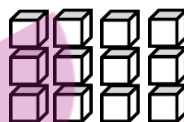
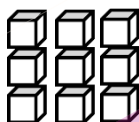
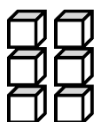
تکلیف  
ریاضی

تم ۱۸

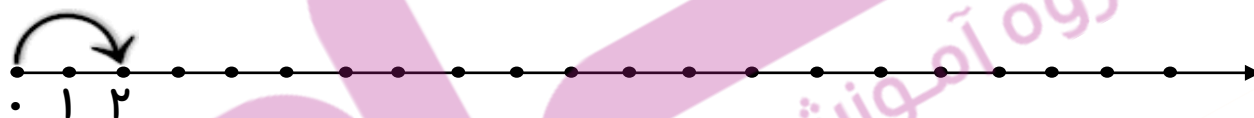
نام زیبای من: .....

تاریخ: .....

۱- جاهای خالی را با عدد مناسب کامل کن.



۲- عددهای روی محور را بنویس، سپس دو تا دو تا جلو برو.



۳- مانند نمونه نوشتن عددها را با عدد و حروف ادامه بده.



بیست

ده - یازده -

۴- حاصل جمع های زیر را با کمک چوب خط به دست بیاور. سپس با توجه به جواب جمع جاهای خالی را کامل کن.



$$۳ + ۴ + ۷ = \text{---}$$



$$۶ + ۶ + ۴ = \text{---}$$



$$۳ + ۲ + ۶ = \text{---}$$

یکی | ده تایی

--- | ---

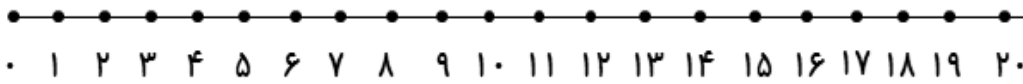
یکی | ده تایی

--- | ---

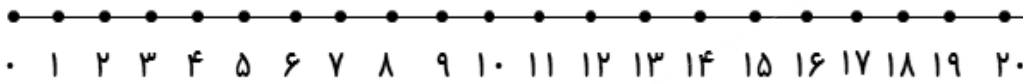
یکی | ده تایی

--- | ---

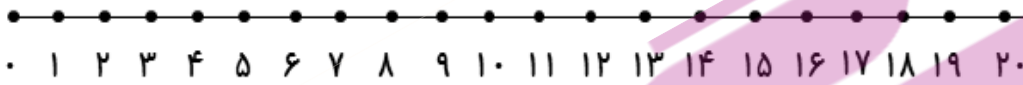
۵- جمع و تفریق های زیر را روی محور نشان بده، سپس جواب آن ها را بنویس.



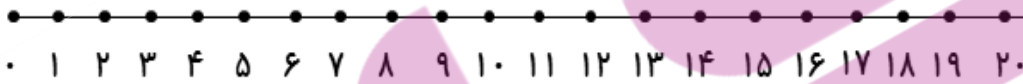
$$6 + 5 + 4 = \text{-----}$$



$$5 + 7 + 4 = \text{-----}$$




$$17 - 6 = \text{-----}$$



$$15 - 9 = \text{-----}$$

۶- ابتدا مربع های شگفت انگیز را کامل کن. سپس پروانه را طوری رنگ بزن که دو طرف آن مثل هم باشد.



۳	۱	۲	۵		۸	۶	۹	۴
	۹		۶		۱		۸	
۵	۸	۶	۴		۹	۱	۷	۲
۶	۵	۹		۴		۸	۳	۷
			۹	۵	۳			
۱	۲	۳		۸		۵	۴	۹
۲	۷	۴	۳		۵	۹	۱	۸
	۳		۲		۴		۵	
۹	۶	۵	۸		۷	۴	۲	۳