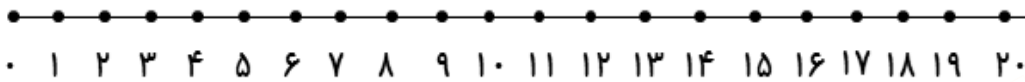
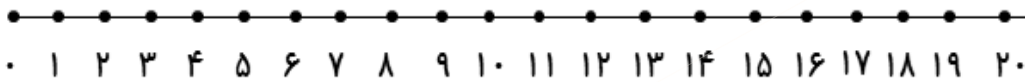


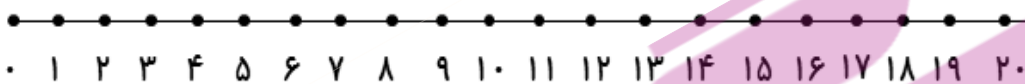
۵- جمع و تفریق های زیر را روی محور نشان بده، سپس جواب آن ها را بنویس.



$$10 + 5 + 5 = \text{-----}$$




$$5 + 5 + 5 = \text{-----}$$



$$20 - 10 = \text{-----}$$

۶- ابتدا مربع های شگفت انگیز را کامل کن. سپس جدول سمت چپ را طوری کامل کن که دو طرف آن مثل هم باشد.



	۳	۵	۸	۴	۶	۲	۱	
۹	۸	۴	۳		۱	۵	۷	۶
۲	۶	۱	۷		۹	۳	۴	۸
۱	۷	۲		۳		۸	۶	۵
۴			۱	۸	۵			۲
۸	۵	۳		۷		۱	۹	۴
۳	۴	۷	۲		۸	۹	۵	۱
۵	۲	۹	۴		۳	۶	۸	۷
	۱	۸	۵	۹	۷	۴	۲	

۷- جواب مسئله را با کمک محور به دست بیاور.

۱۲ شمع روشن بود. ۵ شمع خاموش شد. چند شمع روشن مانده است؟

