

پایه ی اول

به نام خدای خوب

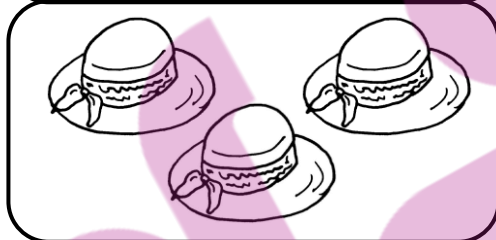

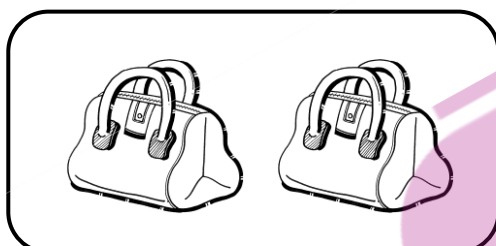
تکلیف ریاضی

تم ۲



نام زیبای من: .....

تاریخ: .....

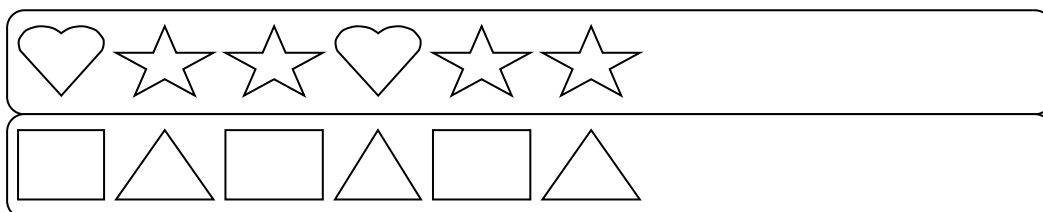
۱- به تعداد شکل های سمت چپ از شکل های سمت راست رنگ بزن.






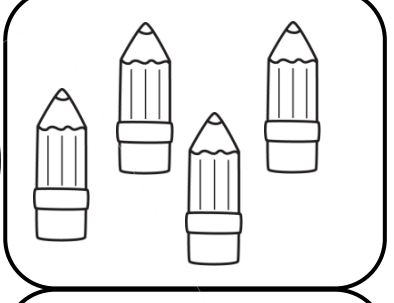




۲- جدول های شگفت انگیز را با شکل های داده شده کامل کن.









۳- الگوهای منظم زیر را ادامه بده.



۴- تعداد شکل های دسته ی سمت راست را با انگشتان دست راست و تعداد شکل های دسته ی سمت چپ را با انگشتان دست چپ خود نشان بده و داخل دایره ها مثلث بکش.

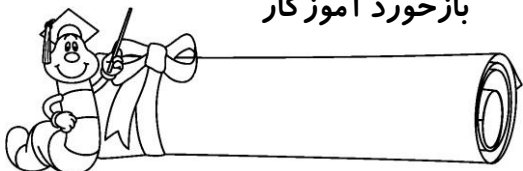
۵- اگر به انگشتان هر دست یکی اضافه شود چند می شود؟ (برای آن دایره بکش.)

					
--	---	---	---	---	---

۶- خانه هایی را که یک نقطه دارد، سبز و خانه هایی را که دو نقطه دارد، قرمز کن.

	••				••				••
•		•		•		•		•	
	•				•				•

بازخورد آموزگار



خود سنجی

