

پایه ی اول

به نام خدای خوب

تکلیف
ریاضی

تم ۲۰

نام زیبای من:

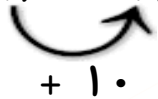
تاریخ:

۱- عدد های زیر را ادامه بده.

۲۰ - ۲۵ - ۳۰



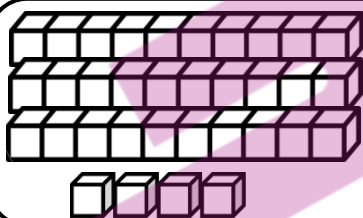
۱۶ - ۲۶ - ۳۶



۵۲ - ۵۳ - ۵۴

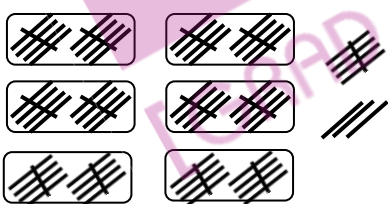
۷۴ - ۷۵ - ۷۶

۲- جاهای خالی را با به طور مناسب کامل کن.



ده تایی و
یکی می شود

ده تایی	یکی	با عدد: -----
-----	-----	با حروف: -----



۶ ده تایی و ۸ یکی
می شود

ده تایی	یکی	با عدد: -----
-----	-----	با حروف: -----

۳- جواب جمع و تفریق های زیر را به دست بیاور.

$20 + 5 = \text{-----}$

$10 + 40 + 5 = \text{-----}$

$70 - 40 = \text{-----}$

$50 - 50 = \text{-----}$

$10 + 10 + 10 = \text{-----}$

$80 - 10 = \text{-----}$

$10 + 10 + 10 + 5 = \text{-----}$

$90 - 20 = \text{-----}$

$10 + 10 + 10 + 5 + 5 + 5 + 5 = \text{-----}$

$60 - 5 = \text{-----}$

