

پایه ی اول  
به نام خدای خوب

تکلیف  
ریاضی  
تم ۲۳

نام زیبای من: .....

تاریخ: .....

۱- جاهای خالی را با اعداد مناسب کامل کن.

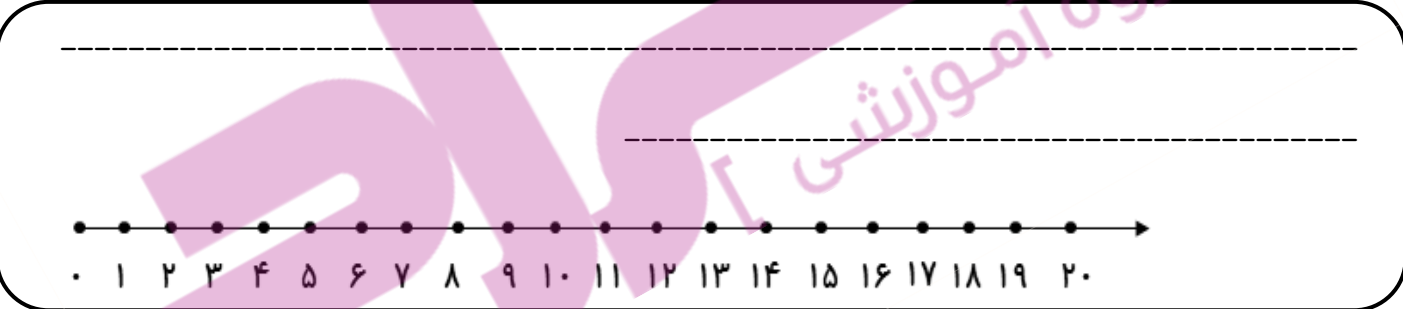
|       |       |          |           |             |        |          |
|-------|-------|----------|-----------|-------------|--------|----------|
| هیجده | هفتاد | چهل و نه | بیست و سه | هشتاد و پنج | شانزده | شصت و یک |
| ----- | ----- | -----    | -----     | -----       | -----  | -----    |

۶۴ - ۶۵ - -----

۱۷ - ۱۸ - -----

$۱۲ + ۳ + ۵ = \text{-----}$

۲- برای عبارت روبه رو یک مسئله بنویس و با کمک محور حل کن.



۳- جواب جمع ها و تفریق های زیر را به دست بیاور.

$۴۵ + ۵ = \text{-----}$

$۱۲ + ۳ = \text{-----}$

$۴۰ - ۱۰ = \text{-----}$

$۳۵ - ۵ = \text{-----}$

$۸۰ + ۱۰ = \text{-----}$


$۶۰ + ۴ = \text{-----}$

$۸ - ۱ = \text{-----}$

$۹۰ - ۳۰ = \text{-----}$


۴- ابتدا برای عددها چوب خط بکش و سپس جاهای خالی را کامل کن.

با عدد: -----  
با حروف: -----



-----

با عدد: -----  
با حروف: -----




-----

۵- در جدول زیر با مداد صورتی ۸ تا ۸ تا و با مداد آبی ۹ تا ۹ تا بشمار و رنگ بزن. عدد کدام خانه را دو بار زنگ زدی؟ آن را داخل بادکنک بنویس.



|    |    |    |    |    |    |    |    |    |    |
|----|----|----|----|----|----|----|----|----|----|
| ۱  | ۲  | ۳  | ۴  | ۵  | ۶  | ۷  | ۸  | ۹  | ۱۰ |
| ۱۱ | ۱۲ | ۱۳ | ۱۴ | ۱۵ | ۱۶ | ۱۷ | ۱۸ | ۱۹ | ۲۰ |
| ۲۱ | ۲۲ | ۲۳ | ۲۴ | ۲۵ | ۲۶ | ۲۷ | ۲۸ | ۲۹ | ۳۰ |
| ۳۱ | ۳۲ | ۳۳ | ۳۴ | ۳۵ | ۳۶ | ۳۷ | ۳۸ | ۳۹ | ۴۰ |
| ۴۱ | ۴۲ | ۴۳ | ۴۴ | ۴۵ | ۴۶ | ۴۷ | ۴۸ | ۴۹ | ۵۰ |
| ۵۱ | ۵۲ | ۵۳ | ۵۴ | ۵۵ | ۵۶ | ۵۷ | ۵۸ | ۵۹ | ۶۰ |
| ۶۱ | ۶۲ | ۶۳ | ۶۴ | ۶۵ | ۶۶ | ۶۷ | ۶۸ | ۶۹ | ۷۰ |
| ۷۱ | ۷۲ | ۷۳ | ۷۴ | ۷۵ | ۷۶ | ۷۷ | ۷۸ | ۷۹ | ۸۰ |



۶- جواب هر مسئله را با کمک محور به دست بیاور.

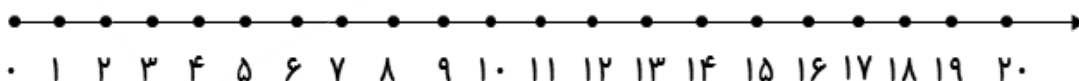
۱۷ سیب روی میز بود. پدر ۶ سیب را شست. برادر هم ۵ سیب را شست.

چند سیب نشسته روی میز باقی ماند؟



فاطمه ۸ کتاب داشت. او ۷ کتاب دیگر از نمایشگاه خرید. آموزگار هم ۵ کتاب به او جایزه داد.

حالا فاطمه چند کتاب دارد؟



باغبان ۸ درخت سیب، ۴ درخت گلابی و ۵ درخت آلبالو کاشته است. او در باغ خود چند درخت

کاشته است؟

