

پایه ی اول

به نام خدای خوب



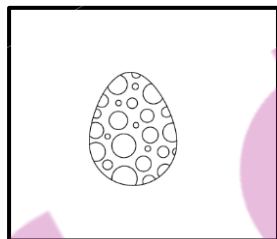
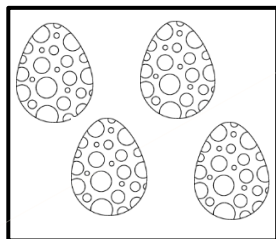
تکلیف ریاضی

تم ۵

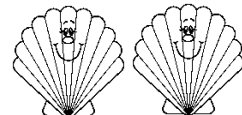




نام زیبای من: .....

تاریخ: .....



۱- شکل های سمت چپ و راست با هم چند تا می شوند؟ با چوب خط حساب کن.



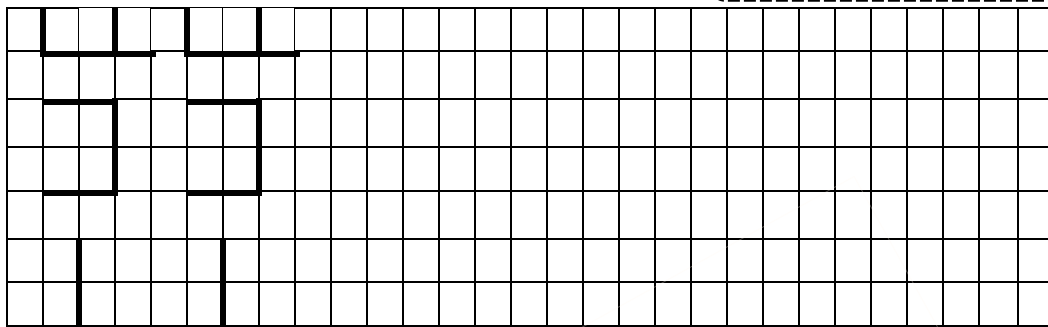
۲- به تعداد ماهی های سمت چپ انگشت باز کن. سپس به تعداد صدف ها از انگشتان خود ببند. چند تا می ماند؟ به تعداد آن چوب خط بکش.



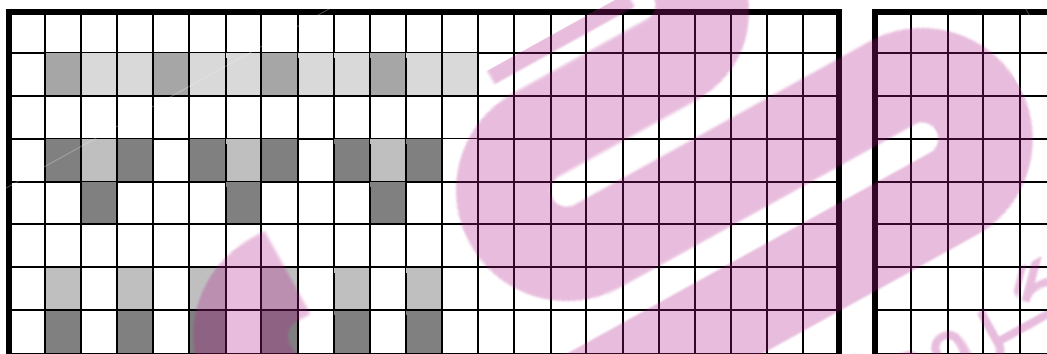
۳- به تعداد پرنده ها از انگشتان رنگ بزن، سپس به تعداد انگشتان باقی مانده چوب خط بکش.





۴- الگوی شطرنجی زیر را ادامه بده.



۵- در هر ردیف ابتدا الگو را پیدا کن و ادامه بده سپس در سمت راست الگویی را که پیدا کرده ای بکش.



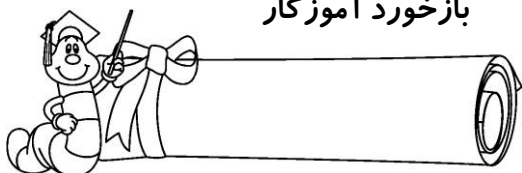
۶- مربع های شگفت انگیز را کامل کن.



۷- با شابلون یک شکل ۳ گوشه، یک شکل ۴ گوشه و یک شکل ۵ گوشه بکش. سپس به تعداد لبه های هر شکل داخل آن ها چوب خط بکش.



بازخورد آموزگار



خود سنجی

