

پایه ی اول

به نام خدای خوب

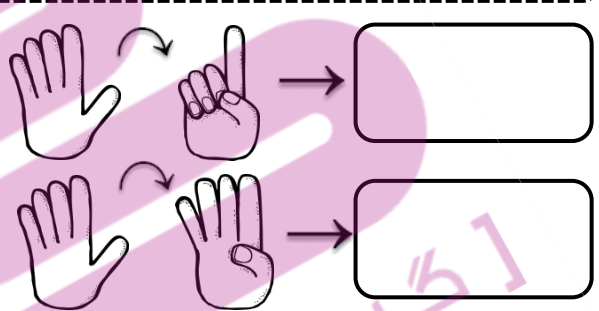
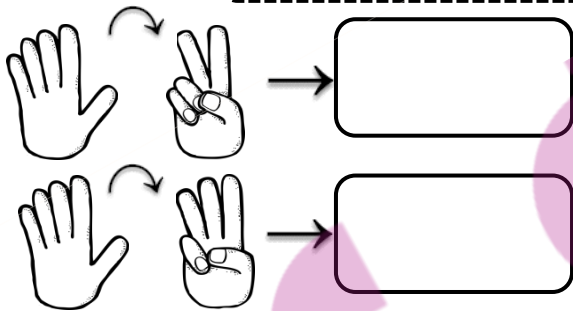
تکلیف ریاضی

تم ۷

نام زیبای من:

تاریخ:

۱- از هر دست چند انگشت بسته شده است؟ چند انگشت باقی می ماند؟ با چوب خط نشان بده.

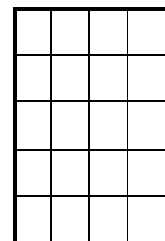



۲- مربع های شگفت انگیز را کامل کن.

	سو		مو
	دو	سو	
	دو		
سو		مو	بو


	و	دَ	مَ
سا		دَ	مَ
و	مَ	سا	دَ

۳- ابتدا الگوی زیر را توضیح بده و بعد ادامه بده. سپس الگویی را که پیدا کرده ای در سمت راست بکش.

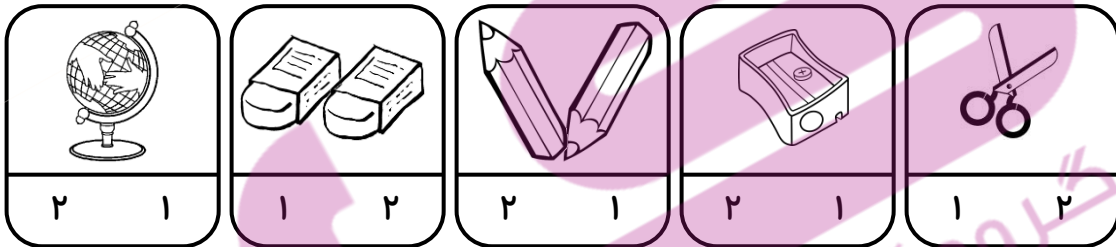


۴- به تعداد هر عدد برای گل ها برگ بکش .

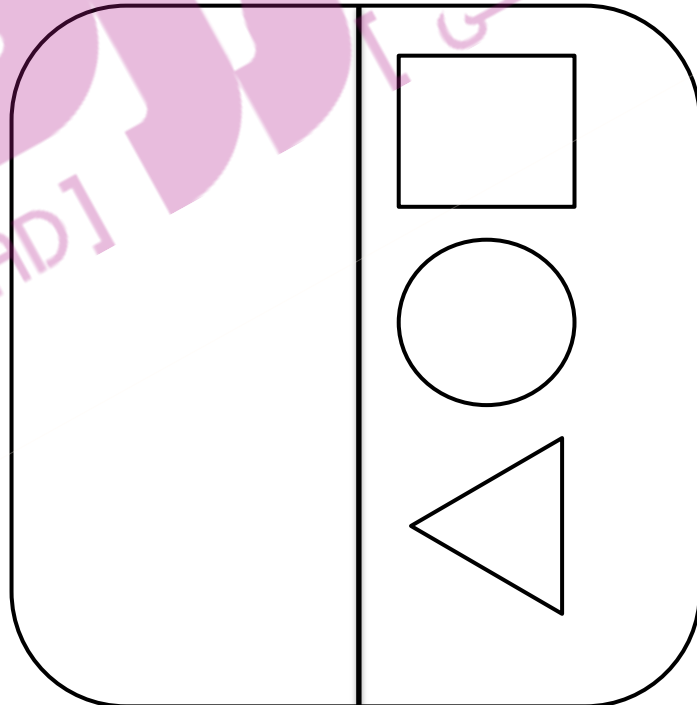
۵- شکل ها را رنگ بزن و عدد هر دسته را بنویس.



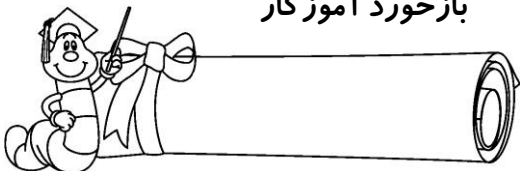
۶- دور عدد مناسب خط بکش.



۷- با کمک شابلون طرف دیگر خط را کامل کن و شکل های شبیه هم را یک رنگ بزن.



بازخورد آموزگار



خود سنجی

