

پایه ی اول

به نام خدای خوب

تکلیف ریاضی

تم ۹

نام زیبای من: .....

تاریخ: .....

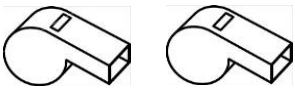
۱- تعداد هر شکل چند تا است؟ ابتدا برای آن چوب خط بکش، سپس عدد آن را بنویس.



Two empty boxes for counting the birds.



Two empty boxes for counting the lamps.



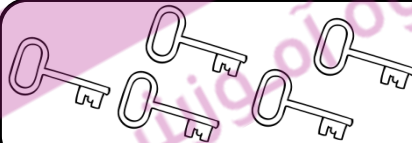
Two empty boxes for counting the whistles.



Two empty boxes for counting the telephone.



Two empty boxes for counting the flowers.




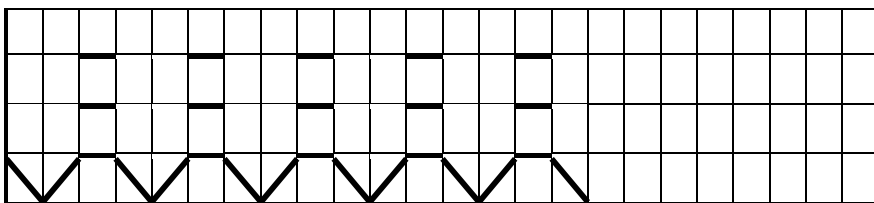
Two empty boxes for counting the keys.

۲- مربع های شگفت انگیز را کامل کن.

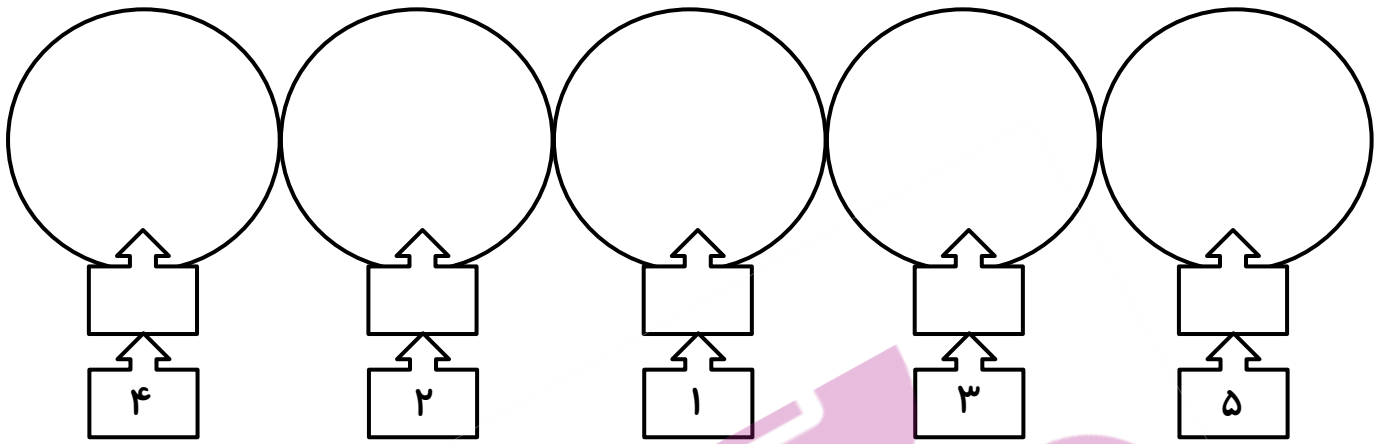
۵	۴	۲	
۲	۳		۴
۴			۵
	۵	۴	

۲	۵		
	۴	۵	۲
۴	۳		۵
۵		۴	


۳- ابتدا الگوی زیر را توضیح بده و بعد ادامه بده. سپس الگویی را که پیدا کرده ای در سمت راست بکش.



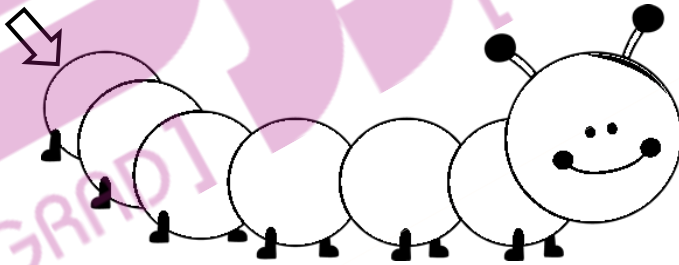
۴- برای هر عدد بالای آن چوب خط کشیده و در دایره شکل بکش و آن ها را رنگ بزن.



۵- در هر قسمت شکل ها روی هم چند تا می شود؟ در سمت چپ چوب خط و در سمت راست عدد آن را بنویس.

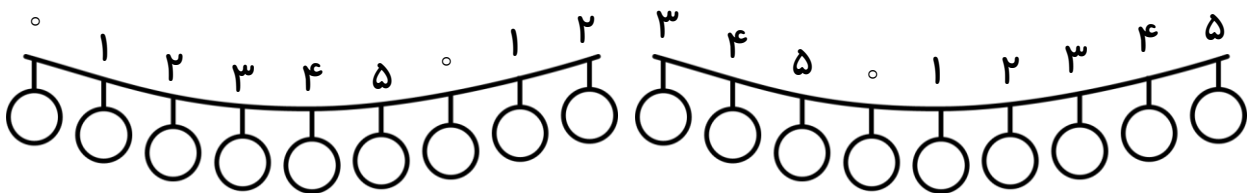


۶- از ۰ تا ۵ به ترتیب بنویس.

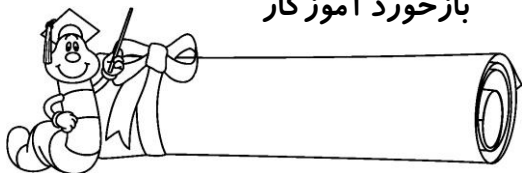


۷- با توجه به راهنما رنگ آمیزی کن.

۰- قرمز ۱- سبز ۲- زرد ۳- نارنجی ۴- بنفش ۵- آبی



بازخورد آموزگار



خود سنجی

