



به نام خداوند ما  
علوم ، دنیای سرد و گرم

نام و نام خانوادگی:

دایره ی لباس های مناسب هوای گرم را قرمز و دایره ی لباس های مناسب هوای سرد را آبی کن.



دایره ی جانورانی که در جاهای گرم زندگی می کنند قرمز و دایره ی جانورانی که در جاهای سرد زندگی می کنند را آبی کن.





دایره ی وسیله هایی که برای گرم کردن استفاده می شود قرمز و دایره ی وسیله هایی که برای سرد کردن است را آبی کن.




دایره ی خوراکی های سرد را آبی و دایره ی خوراکی های گرم را قرمز کن.



در کدام تصویر فقط گرما تولید می شود.



در کدام تصویر هم نور و هم گرمای زیادی تولید می شود.



دایره ی شغل هایی که نیاز به گرما دارند را تیک بزن.



تابستان

بهار

سرد ترین فصل سال ..... است.

زمستان

یابیز

گرم ترین فصل سال ..... است.

تیره

در هوای سرد از لباسهای رنگ ..... استفاده می کنیم.

روشن

در هوای گرم از لباسهای رنگ ..... استفاده می کنیم.

آفرین برشا

بازخورد آموزگار:

