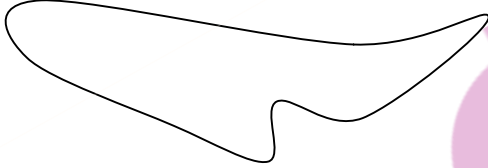

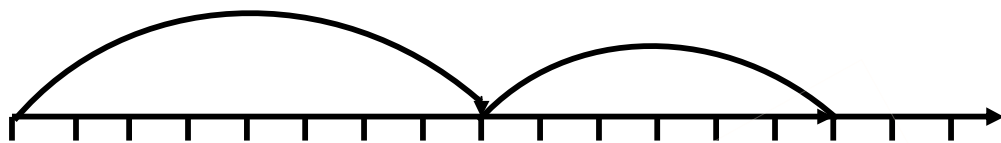


نام دانش آموز:

ن	ت	خ	خ	خ
			خ خ	<p>۱ عدد ست چپ را با حروف بنویس و عدد ست راست را با شکل نشان بده .</p> <p>۲۸</p> <p>۶۹</p>
				<p>۲ داخل خط بسته ۱۲ چوب خط و خارج از آن ۲۰ چوب خط بکش . کدام چوب خط ها بیشتر است ؟</p> 
				<p>۳ برای عدد ۳۰ شکل بکش . آن را در جدول و با حروف بنویس .</p> <p>حروف:..... شکل:</p> <p>۳۰ می شود ده تایی و یکی</p> 
				<p>۴ با کلمات (بلند تر - کم تر - کوتاه ترین و سبک تر) جمله ها را کامل کن .</p> <p>مقدار بیست و پنج از پنجاه و دو است .</p> <p>درخت سرو از گل رز است .</p> <p>بادبادک از کیف است .</p> <p>امین دانش آموز کلاس ما است .</p>
				<p>۵ قبل و بعد اعداد را بنویس .</p> <p>..... - - ۷۹ - -</p> <p>..... - - ۵۰ - -</p>
				<p>۶ از عدد ۳ ، سه تا سه تا و پنج تا پنج تا و ده تا ده تا جلو برو .</p> <p>..... - - - - ۴</p> <p>..... - - - - ۴</p> <p>..... - - - - ۴</p>

برای محور اعداد یک مسئله بنویس و جواب بده .




۸ مریم ۶ کاغذ رنگی آبی و ۵ کاغذ رنگی قرمز داشت . ۷ تا از آن ها را به دوستانش داد و با کاغذ رنگی هایی که برای خودش باقی مانده بود، بادبادک درست کرد . مریم با چند کاغذ رنگی بادبادک درست کرده است ؟ (با هر روشی که دوست داری انجام بده)

۹ (اگر مساله اطلاعات اضافی دارد، آن را خط بزن و مسئله را خودت کامل کن و جواب بده.)
یک مینی بوس ۱۸ صندلی دارد . ۱۵ مسافر در مینی بوس بودند. در ایستگاه آزادی ۵ نفر پیاده شدند .

۱۰ مقایسه کنید. ($< = >$)
۲ ده تایی و ۷ یکی ۳ ده تایی و ۴ یکی
۲۰ + ۱۰ + ۱۰ + ۵ ۳۰ + ۵ + ۱۰ + ۱۰ - ۵
۲۱ ۱۲

۱۱ از سمت چپ، یک مستطیل و دو دایره بکش . داخل هر مستطیل یک مثلث و داخل هر دایره یک مربع بکش . سپس این الگو را ادامه بده .



۱۲ یک مدل ۵ تایی در یک طرف خط تقارن بکش . سپس آن را در سه طرف دیگر قرینه کن.