

بسمه تعالی

دبستان:

کلاس:

آزمون ریاضی چهارم ابتدایی

تاریخ:

(فصل یک)

مدت آزمون:

نام و نام خانوادگی:

۱- اعداد زیر را به حروف بنویسید.

۴۰۰۲۹۸۴۰۰۱

۷۸۰۱۲۹۰۰۰


۲- عدد ششصد و بیست میلیون و هفده هزار و چهل را:

الف) به رقم بنویسید.


ب) بزرگ ترین رقم در چه مرتبه ای قرار دارد؟

ج) رقم دهگان میلیون این عدد چند است؟


۳- هر کدام از شکل های زیر از تعدادی دایره درست شده است. اگر شکل ها را به همین ترتیب ادامه دهیم، دایره های شکل هفتم را رسم کنید.



شکل ۱



شکل ۲



شکل ۳

شکل ۷

۴- بزرگ ترین و کوچک ترین عدد پنج رقمی که با رقم های (۳، ۱، ۰، ۴، ۶) می توان نوشت را در زیر بنویسید.

بزرگ ترین عدد کوچک ترین عدد

۵- ماشین ورودی و خروجی زیر را کامل کنید.

طول یک ضلع مربع

۴

.....

۷



محیط مربع

۴۸

۶- عدد های زیر را با هم مقایسه کنید.

۴۲۱۸۹ ○ ۴۲۵۸۹

۹۰۰۱۲ ○ ۹۰۰۹

۱۴۲۵۱ ○ ۶۵۰۲

۱۲۴۰۰۱ ○ ۱۲۵۴۱

۶۰۲۰۲ ○ ۶۲۰۲۰

۱۴۷۸۹ ○ ۹۴۸۵۷

بسمه تعالی

دبستان:

کلاس:

نام و نام خانوادگی:

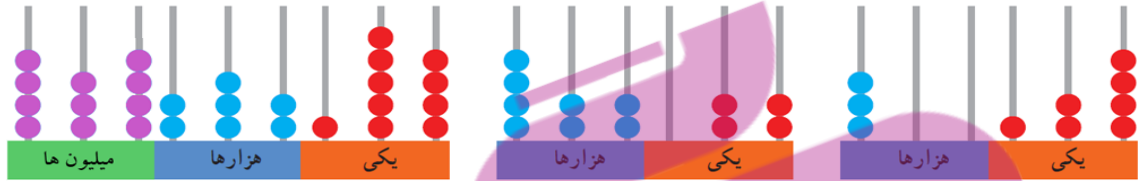
آزمون ریاضی چهارم ابتدایی

(فصل یک)

تاریخ:

مدت آزمون:

۷- عددی را که هر شکل نشان می دهد، به رقم و حروف بنویسید.



۸- در جاهای خالی جدول عدد مناسب بنویسید.

طول ضلع مربع	۴			۹		
محیط مربع		۴			۲۸	
مساحت مربع			۹			۱۰۰

بسمه تعالی


پاسخنامه

آزمون ریاضی چهارم ابتدایی

(فصل یک)

۱- چهارمیلیارد و دومیلیون و نهمصد و هشتاد و چهار هزار و یک - هفتصد و هشتاد میلیون و یکصد و بیست و نه هزار

۲- الف - 62007040 ب- یکان هزار ج- ۲



شکل ۷

کوچک ترین عدد: 10346

بزرگ ترین عدد: 64310

طول یک ضلع مربع

۴
۱۲
۷



محیط مربع

۱۶
۴۸
۲۸

۶-

$$42189 < 42589$$

$$90012 > 9009$$

$$14251 > 6502$$

$$124001 > 12541$$

$$60202 < 62020$$

$$14789 < 94857$$

۴۳۴۲۳۲۱۵۴

۴۲۱۰۲۲

۳۰۰۱۲۹ ۷-

سه هزار و یکصد و بیست و نه چهارصد و بیست و یک هزار و بیست و دو چهارصد و سی و چهار میلیون و دو صد و بیست و نه هزار و یکصد و پنجاه و چهار

۸-

طول ضلع مربع	۴	۱	۳	۹	۷	۱۰
محیط مربع	۱۶	۴	۱۲	۳۶	۲۸	۴۰
مساحت مربع	۱۶	۱	۹	۸۱	۴۹	۱۰۰